



**1 Пресметни.**

8 . 1 =

6 . 8 =

7 . 9 =

7 . 7 =

14 : 7 =

32 : 8 =

81 : 9 =

28 : 7 =



**2 Пресметни числовите изрази, като спазваш реда на действията.**

(8 . 9) + 28 =

14 + 14 : 7 =



**3 Намери неизвестния множител и направи проверка.**

. 7 = 7

8 .  = 24

=

=

=

=

Проверка: \_\_\_\_\_

Проверка: \_\_\_\_\_



**4 Запиши задачата с числов израз и я реши.**

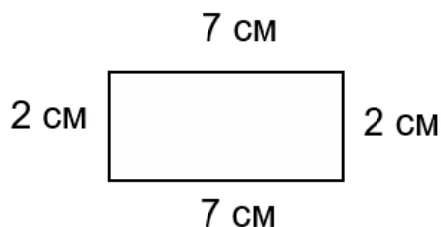
Частното на числата 48 и 6 събери с 62.

\_\_\_\_\_

\_\_\_\_\_



**5 Правоъгълник има дължини на страните 7 см и 2 см. Намери обиколката му по два начина.**



Решение:

\_\_\_\_\_

\_\_\_\_\_

\_\_\_\_\_



Отговор: .....

## заЕдно



6 В сладкарница доставили 4 шоколадови торти и 5 пъти повече сметанови. Общо колко торти са доставили?

Решение:

Отговор:



7 В отбор по плуване има 35 момичета и 5 пъти по-малко момчета. Колко деца участват в отбора по плуване?

Решение:

Отговор:



8 По илюстрацията състави текстова задача, която се решава с умножение.



6



?

Задача:

Решение:

Отговор:



Име: ..... от 2а клас, Дата: 11.5.2020

Г-жа Йотова ти пожелава успех!



## 1 Пресметни.

$1 \cdot 8 = \square$

$5 \cdot 8 = \square \square$

$8 \cdot 9 = \square \square$

$6 \cdot 7 = \square \square$

$9 : 9 = \square$

$40 : 8 = \square$

$35 : 9 = \square$

$80 : 8 = \square \square$

4

## 2 Пресметни числовите изрази, като спазваш реда на действията.

$(3 \cdot 7) + 59 =$

$18 + 18 : 9 =$

4

## 3 Намери неизвестния множител и направи проверка.

$\square \cdot 8 = 80$

$9 \cdot \square = 81$

$\square =$

$\square =$

$\square =$

$\square =$

Проверка:

Проверка:

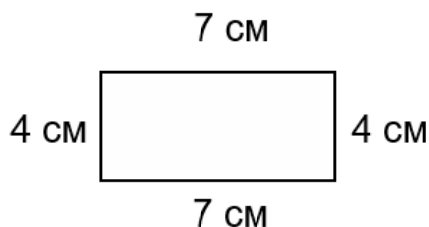
4

## 4 Запиши задачата с числов израз и я реши.

Разликата на 44 и 16 раздели на 7.

2

## 5 Правоъгълник има дължини на страните 7 см и 4 см. Намери обиколката му по два начина.



Решение:

2

Отговор: .....

## заЕдно

6

В сладкарница доставили 10 шоколадови торти и 2 пъти повече сметанови. Общо колко торти са доставили?

Решение:

Отговор:

2

7

В парк има 36 широколистни дървета и 6 пъти по-малко иглолистни. Колко дървета има в парка?

Решение:

Отговор:

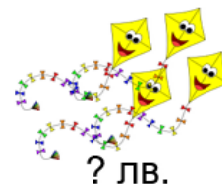
2

8

По илюстрацията състави текстова задача, която се решава с умножение.



7 лв.



? лв.

Задача:

Решение:

Отговор:

4