






Име: от 2а клас, Дата: 5.5.2020

Г-жа Йотова ти пожелава успех!



- 1** Обиколката на равнобедрен триъгълник е 38 см. Бедрото му е 12 см. Колко сантиметра е основата на триъгълника?
- 26 см
 14 см
 15 см
- 2** На кой ред правилно е пресметната дължината на правоъгълник, който има обиколка 42 см и ширина - 8 см?
- 13 см
 26 см
 50 см
- 3** Правоъгълник има дължина 8 см. Обиколката му е 36 см. Намери ширината на правоъгълника.
- 20 см
 10 см
 28 см
- 4** Правоъгълник има обиколка 20 см. Едната му страна е 6 см. Колко сантиметра е другата му страна?
- 8 см
 4 см
 26 см
- 5** Колко е часът?
- 
- 12 ч. 45 мин.
 12 ч. 9 мин.
 12 ч. 40 мин.
- 6** Колко е часът?
- 
- 13 ч. 5 мин.
 13 ч. 25 мин.
 13 ч. 15 мин.
- 7** Колко е часът?
- 
- 18 ч. 10 мин.
 17 ч. 10 мин.
 18 ч. 20 мин.
- 8** Колко дециметра е обиколката на правоъгълник със страни 7 дм и 6 дм?
- 13 дм
 26 дм
 20 дм

заЕдно



9

Намери обиколката на правоъгълник със страни 7 м и 4 м.

- 18 м
- 11 м
- 22 м



10

На кой ред е пресметната вярно обиколката на правоъгълник със страни 7 м и 5 м?

- 17 м
- 24 м
- 12 м