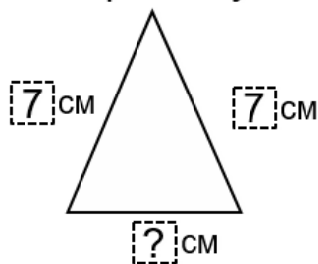


Име: ..... от 2а клас, Дата: 25.3.2020

Г-жа Йотова ти пожелава успех!



- 1 Обиколката на равнобедрен триъгълник е 20 см. Дължината на бедрото му е 7 см. Намери дължината на основата му.



Решение:

---



---

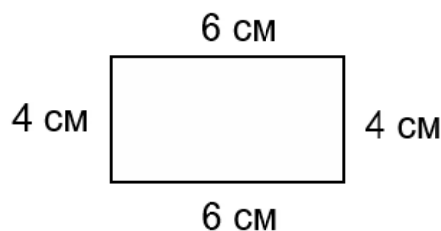


---

Отговор: .....

2

- 2 Правоъгълник има дължини на страните 6 см и 4 см. Намери обиколката му по два начина.



Решение:

---



---



---

Отговор: .....

2

- 3 Запиши липсващите числа.

$$95 \text{ мин} = \boxed{\phantom{0}} \text{ час } \boxed{\phantom{0}} \text{ мин} \quad 1 \text{ час } 30 \text{ мин} = \boxed{\phantom{0}} \boxed{\phantom{0}} \text{ мин}$$

2

- 4 В магазин продали 45 кг ябълки и 9 пъти по-малко кг портокали. Колко килограма плодове са продали?

Решение:

---



---

Отговор:

---

2



# заЕдно





5 Състави текстова задача по съкратения запис и я реши с числов израз.

---


---

---

рисунки – 

апликации –  пъти повече от

Колко са общо?



Решение:

---

---

Отговор: .....



6 Състави текстова задача по съкратения запис и я реши с числов израз.

---


---

---

камиончета – 

кукли –  пъти по-малко от

Колко играчки?



Решение:

---

---

Отговор: .....

