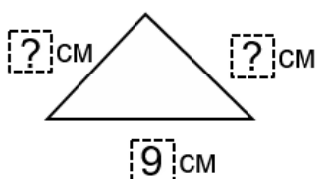




- 1 Обиколката на равнобедрен триъгълник е 21 см. Дължината на основата му е 9 см. Намери дължината на бедрото му.



Решение:

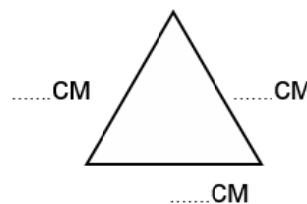
Отговор:

2

- 2 Намери обиколката на равностранен триъгълник със страна 9 см по два начина (със събиране и с умножение).

Решение:

Отговор:



2

- 3 Запиши липсващите числа.

90 мин = час мин 1 час 10 мин = мин

2

- 4 От овощна градина набрали 8 кг череши и 10 пъти повече кг вишни. Колко кг плодове са набрали от овощната градина?

Решение:

Отговор:

2



5

По илюстрацията състави текстова задача, която се решава с умножение.



6



?


Задача:

Решение:

Отговор:

6

Състави текстова задача по съкратения запис и я реши с числов израз.

зюмбюли – лалета –  пъти по-малко от

Колко цветя?

Решение:

Отговор:

4

4